

Mein Wochenplan

für die Woche vom 30.3.-3.4.2020









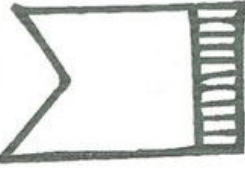



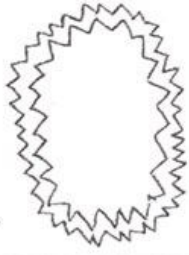

















Lernbereich	Aufgabe	erledigt
GU	<p>Bearbeite jeden Tag ein AB vom Anhang.</p> <p>Schreibe mit Straßenkreiden die Zahlen von 0 bis 20 auf den Boden.</p>	
Musik	<p>Höre dir das Lied „Die Jahresuhr“ von Rolf Zuckowski an. Versuche dir alle Monate zu merken.</p>	
Kunst	<p>Regenbogenaktion: Male einen Regenbogen und klebe ihn an die Haustüre/Fenster. Andere Kinder können auf ihrem Spaziergang die Regenbogen suchen und zählen.</p>	
Sport	<p>Suche dir jemanden aus deiner Familie und schau nach, wer länger an der „Wand sitzen“ kann.</p> <p>Der Verein „Alba Berlin“ veröffentlicht auf youtube sehr empfehlenswerte Sporteinheiten für Grundschul Kinder (bzw. Kita-Kinder).</p>	
Sonstiges	<p>Lies jeden Tag mindestens 10 Minuten im Entenheft /Fröscheheft.</p> <p>Übe das Schuhband binden mit verschiedenen Schuhen.</p>	

Mein Zuhause

A B C

Schau genau!
Entdecke dein Zuhause!

Name: _____

○ Mathematik

Übe hier!

3	+	6	=	_____
4	+	□	=	8
6	-	2	=	_____
8	-	□	=	3



4	+	5	=	_____
2	+	□	=	6
8	-	3	=	_____
7	-	□	=	1



5	+	3	=	_____
2	+	□	=	10
9	-	5	=	_____
8	-	□	=	2



5	+	1	=	_____
4	+	□	=	10
9	-	5	=	_____
8	-	□	=	1



6	+	3	=	_____
5	+	□	=	9
8	-	5	=	_____
7	-	□	=	4



2	+	6	=	_____
3	+	□	=	7
7	-	5	=	_____
9	-	□	=	3




4	+	3	=	_____
6	+	□	=	9
7	-	6	=	_____
8	-	□	=	4

7	+	2	=	_____
3	+	□	=	9
6	-	4	=	_____
9	-	□	=	5


Name:

Datum:


Das ist ein Hase.




Das ist Regen.




Das ist ein Weg.




Das ist ein Hund.




Das ist eine Ampel.




Das ist ein Buch.



Das ist eine Maus.




Das ist eine Schule.





Dreigliedrige Additionsaufgaben

1



2

$$\begin{array}{l} 3+2+2 = \underline{\quad} \quad 2+4+2 = \underline{\quad} \quad 4+1+5 = \underline{\quad} \quad 7+0+2 = \underline{\quad} \\ 4+2+1 = \underline{\quad} \quad 1+6+3 = \underline{\quad} \quad 6+3+0 = \underline{\quad} \quad 2+6+1 = \underline{\quad} \\ 2+3+5 = \underline{\quad} \quad 3+0+5 = \underline{\quad} \quad 5+2+2 = \underline{\quad} \quad 4+1+4 = \underline{\quad} \end{array}$$

3

$$\begin{array}{l} 4+3+2 = \underline{\quad} \quad 1+5+3 = \underline{\quad} \quad 6+1+2 = \underline{\quad} \quad 2+7+0 = \underline{\quad} \\ 3+2+4 = \underline{\quad} \quad 5+3+1 = \underline{\quad} \quad 1+2+6 = \underline{\quad} \quad 7+0+2 = \underline{\quad} \\ 2+4+3 = \underline{\quad} \quad 3+1+5 = \underline{\quad} \quad 2+6+1 = \underline{\quad} \quad 0+2+7 = \underline{\quad} \end{array}$$

4

$$\begin{array}{l} 1+3+4 = \underline{\quad} \quad 5+2+2 = \underline{\quad} \quad 3+4+2 = \underline{\quad} \quad 2+1+6 = \underline{\quad} \\ 2+3+3 = \underline{\quad} \quad 6+2+1 = \underline{\quad} \quad 4+4+1 = \underline{\quad} \quad 3+1+5 = \underline{\quad} \end{array}$$

5

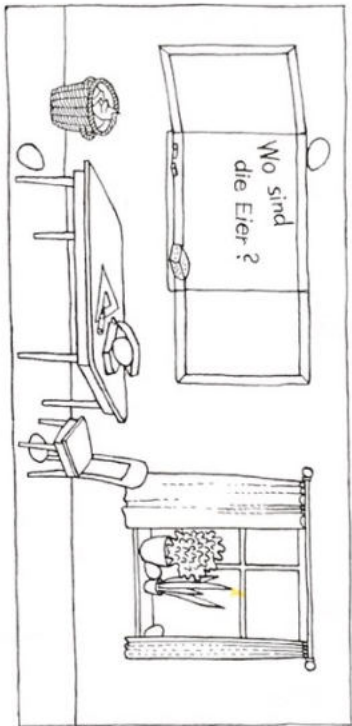
 $0+0+$ $1+1+$ $2+2+$ $3+3+$ $4+4+$ $5+5+$	 $1+$ $2+$ $3+$ $4+$ $5+$ $6+$	 $9+$ $8+$ $7+$ $6+$ $5+$ $4+$
--	--	--

▣ Additionsaufgaben schreiben.

Name: _____

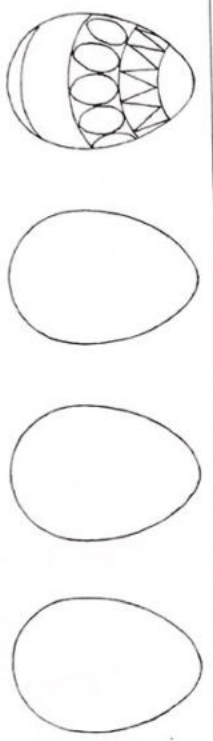
O Lesen

Wo sind die Ostereier?



- Ein Ei liegt _____
Male es rot an!
dem Tisch
- Ein Ei liegt _____
Male es blau an!
dem Stuhl
- Ein Ei liegt _____
Male es grün an!
dem Vorhang
- Ein Ei liegt _____
Male es gelb an!
der Tafel
- Ein Ei liegt _____
Male es lila an!
dem Mäppchen
- Ein Ei liegt _____
Male es bunt an!
den Blumen

Setze ein: in auf unter neben hinter zwischen






Zerlegungen zu Zahlen bis 20 – 1


1



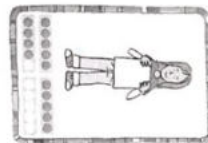
$10 + 1$



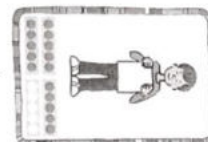
+



+




+




+


2




+



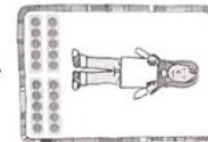
+



+



+



+

3



12

$10 +$



10


$10 +$

4



10

$10 +$



10

$10 +$

5



10

$10 +$



10

$10 +$