


Name: _____

Wochenarbeitsplan vom 16. bis 20. März 2020


Wann?	Deutsch	Mathe	erledigt <input checked="" type="checkbox"/>
bis Ende der Ferien!	Mit LW 2 und 3 fertig werden! → Arbeit mit Karteikasten + gelbem Heft (Übungsplan auf 1. Seite)	alle Arbeitsblätter zu den Körperformen (von Fr. Brandmeier erhalten)	
Dienstag 17.3.	<ul style="list-style-type: none">○ Piri Buch S. 42 lesen + S. 43 Nr. 1 und 2○ Schreibe 10 Nomen auf.	<ul style="list-style-type: none">○ AB „Zehner und Einer“○ AB „Zerlegen“○ AB „Muster selbst erfinden“	
Mittwoch 18.3.	<ul style="list-style-type: none">○ Piri Buch S. 48 - 51 lesen○ Zwergenheft: alle Lücken bis Seite 65○ 2 Seiten im Schreibheft „Ich kann schreiben“	<ul style="list-style-type: none">○ AB „Zahlentreppe/Zahlenreihe“○ Zahlenfuchs: alle Lücken bis Seite 43	
Donnerstag 19.3.	<ul style="list-style-type: none">○ Piri Buch S. 52-55 lesen○ Zwergenheft: Seiten 66 und 67 zum neuen Buchstaben „J/j“ wie Jacke 	<ul style="list-style-type: none">○ Finde 15 eigene Rechnungen.○ AB „Zahlen und Rechnungen bis 20“○ AB „Einkaufen mit Rückgeld“	
Freitag 20.3.	<ul style="list-style-type: none">○ Piri Buch S. 56- 59 lesen○ Schreibe 10 Verben auf. (Tipp: Was tut man?)○ AB „Wörter mit J/j“	<ul style="list-style-type: none">○ Zahlenfuchs Seite 45 und 46○ AB „Plusaufgaben“	

Hinweise:

- Schriftliche Arbeiten ohne Heft/Arbeitsblatt bitte auf linierte bzw. karierte Blockblätter anfertigen.
- Für die letzte Stufe beim Karteikasten sollen den Kindern die Lernwörter diktiert werden. Lernwörter 3 befinden sich auch im Anhang.

Wörter mit J/j

R	w	I	O	y	o	u	B	o	j	e	z	f	a	B	b	B	B
Q	a	F	O	B	W	m	p	J	a	h	r	f	b	x	E	T	p
B	c	Q	J	a	c	k	e	Q	y	q	J	ä	g	e	r	Y	b
k	J	u	d	o	u	P	W	P	p	z	F	Q	D	E	f	W	v
F	w	p	v	e	L	p	o	b	K	a	j	a	k	o	j	B	E
B	J	o	g	h	u	r	t	z	m	s	z	c	w	A	e	w	Z
Y	P	J	i	J	V	y	q	z	m	i	o	j	J	o	j	o	V
D	V	c	U	e	k	q	m	v	o	j	P	Q	c	O	e	k	C
c	w	f	J	r	V	G	D	y	C	Z	X	c	Q	k	h	h	y
V	y	O	v	f	V	s	P	C	v	z	K	l	t	M	a	j	o
A	s	k	J	a	g	u	a	r	L	q	h	k	T	l	J	f	e
Z	G	n	Z	Y	F	d	z	l	a	L	G	e	l	u	O	J	x

- ①  Diese Wörter findest du im Suchsel: Joghurt, Jäger, Jacke, Judo, Jaguar, Jojo, Kajak, Majo, Boje, Jahr

- ②  Trage das richtige Wort ein :

Ich esse Pommes mit _____

Ein schnelles Raubtier =

Ein Kleidungsstück = _____

Ein Boot = _____

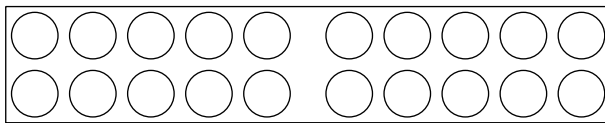
Eine Sportart = _____

12 Monate = _____

Name: _____

Zehner und Einer

Male die obere Reihe im Zwanzigerfeld blau (Zehnerstange) und die untere Reihe rot (Einerwürfel) aus.

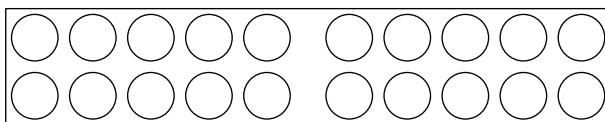


1	0	+	5	=	1	5
---	---	---	---	---	---	---

Z	E
---	---

1	Z	+	5	E	=	1	5
---	---	---	---	---	---	---	---

1	5
---	---

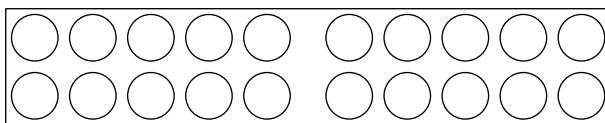


1	0	+	7	=		
---	---	---	---	---	--	--

Z	E
---	---

1	Z	+		E	=		
---	---	---	--	---	---	--	--

--	--

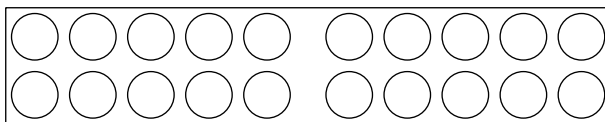


1	0	+	9	=		
---	---	---	---	---	--	--

Z	E
---	---

1	Z	+		E	=		
---	---	---	--	---	---	--	--

--	--

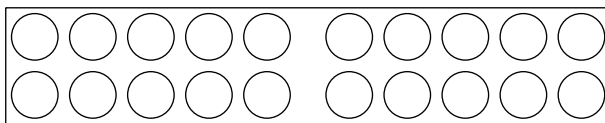


1	0	+	4	=		
---	---	---	---	---	--	--

Z	E
---	---

	Z	+		E	=		
--	---	---	--	---	---	--	--

--	--

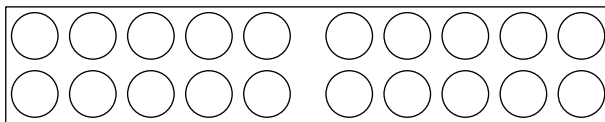


1	0	+	1	=		
---	---	---	---	---	--	--

Z	E
---	---

	Z	+		E	=		
--	---	---	--	---	---	--	--

--	--

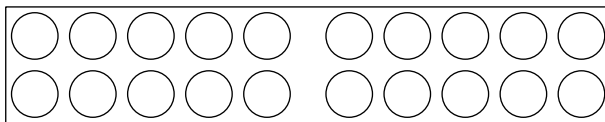


1	0	+	3	=		
---	---	---	---	---	--	--

Z	E
---	---

	Z	+		E	=		
--	---	---	--	---	---	--	--

--	--

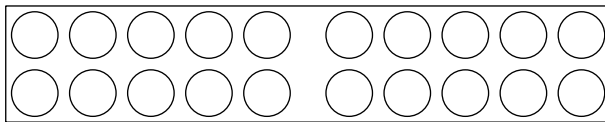


		+		=		
--	--	---	--	---	--	--

Z	E
---	---

		+		=		
--	--	---	--	---	--	--

1	6
---	---

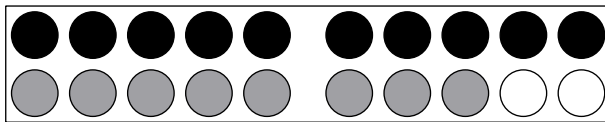


		+		=		
--	--	---	--	---	--	--

Z	E
---	---

		+		=		
--	--	---	--	---	--	--

1	9
---	---

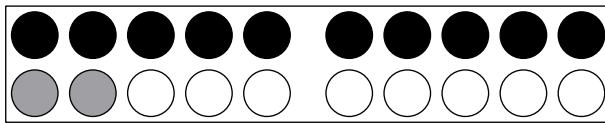


		+		=		
--	--	---	--	---	--	--

Z	E
---	---

		+		=		
--	--	---	--	---	--	--

--	--



		+		=		
--	--	---	--	---	--	--

Z	E
---	---

		+		=		
--	--	---	--	---	--	--

--	--

Zerlegen

1



10 +



+



+



+

2



+



+



+



+

3



13 = 10 +



4



15 = 10 +



17 =

5



19 =



12 =

6

14 = _____ + _____

11 = _____ + _____

20 = _____ + _____

19 = _____ + _____

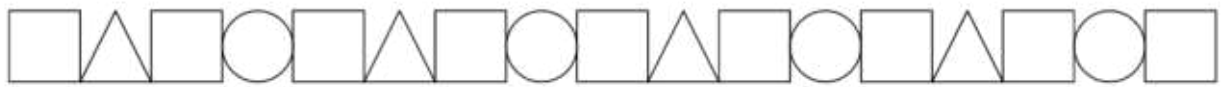
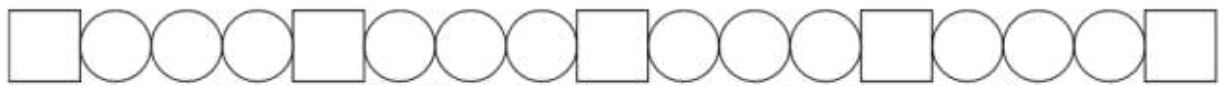
16 = _____ + _____

18 = _____ + _____



Name: _____

Muster selbst erfinden

Male so an, dass ein schönes Muster entsteht.



Setze das Muster fort.



Wie könnte dieses Muster weitergehen?



Zahlentreppe / Zahlenreihe

1 2

17

16 10

3 20

19 4 14

5

20

6

11 12

7

8 8 9

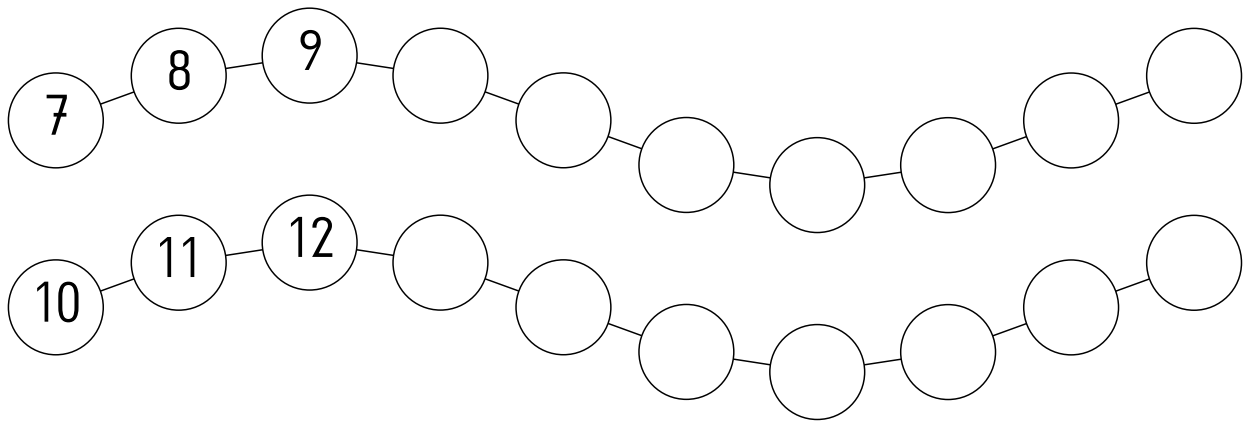
8 18 19

9

Name: _____

Zahlen und Rechnungen bis 20

Setze die fehlenden Zahlen ein.



Rechne!

$10 + 7 = \underline{\quad}$

$10 + 4 = \underline{\quad}$

$10 + 2 = \underline{\quad}$

$10 + 3 = \underline{\quad}$

$10 + 3 = \underline{\quad}$

$10 + 4 = \underline{\quad}$

$10 + 9 = \underline{\quad}$

$10 + 2 = \underline{\quad}$

$10 + 8 = \underline{\quad}$

$10 + 8 = \underline{\quad}$

$10 + 7 = \underline{\quad}$

$10 + 6 = \underline{\quad}$

$10 + 6 = \underline{\quad}$

$10 + 1 = \underline{\quad}$

$10 + 3 = \underline{\quad}$

$10 + 4 = \underline{\quad}$

$10 + 5 = \underline{\quad}$

$10 + 10 = \underline{\quad}$

$10 + 5 = \underline{\quad}$


$10 + 6 = \underline{\quad}$

$10 + 1 = \underline{\quad}$

Immer 10 zusammen.



_____ Zehner _____ Einer









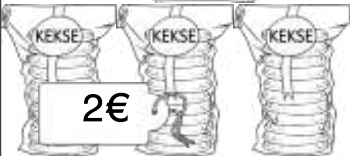















_____ Zehner _____ Einer

Name: _____

Einkaufen mit Rückgeld



Du hast	Du kaufst	Wie viel bekommst du zurück?
		$5\text{€} - 2\text{€} =$
 	 <p>zusammen: 6€</p>	$7\text{€} - 6\text{€} =$
	 <p>zusammen:</p>	
	 <p>zusammen:</p>	
		
		
		
 		
  		

Plusaufgaben

1

$7 + 2 = \underline{\quad}$

$5 + \underline{\quad} = 7$

$15 + 3 = \underline{\quad}$

$6 + 2 = \underline{\quad}$

$4 + \underline{\quad} = 6$

$14 + 3 = \underline{\quad}$

$8 + 2 = \underline{\quad}$

$6 + \underline{\quad} = 8$

$16 + 3 = \underline{\quad}$

$7 + 1 = \underline{\quad}$

$5 + \underline{\quad} = 6$

$15 + 2 = \underline{\quad}$

$7 + 3 = \underline{\quad}$

$5 + \underline{\quad} = 8$

$15 + 4 = \underline{\quad}$

2

$4 + 4 = \underline{\quad}$

$6 + \underline{\quad} = 7$

$16 + 2 = \underline{\quad}$

$3 + 4 = \underline{\quad}$

$5 + \underline{\quad} = 6$

$15 + 2 = \underline{\quad}$

$5 + 4 = \underline{\quad}$

$7 + \underline{\quad} = 8$

$17 + 2 = \underline{\quad}$

$4 + 3 = \underline{\quad}$

$6 + \underline{\quad} = 6$

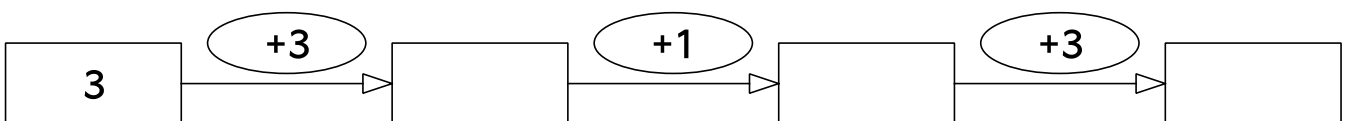
$16 + 1 = \underline{\quad}$

$4 + 5 = \underline{\quad}$

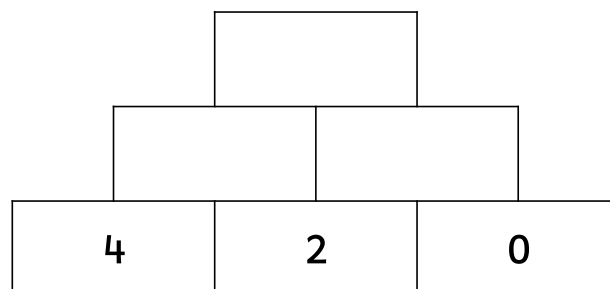
$6 + \underline{\quad} = 8$

$16 + 3 = \underline{\quad}$

3



4



Name: _____

Schwester

Feder

dunkel

Pinself

baden

Regen

klein

reisen

Euro

Leute

Name: _____

eng

Ring

krank

sparen

Sport

Stern

Woche

Tasche

Pflanze